






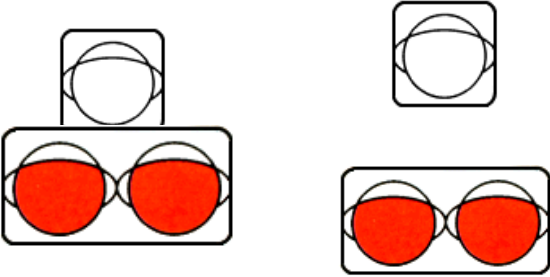





ДИАГНОСТИЧЕСКИЙ МАТЕРИАЛ ПО ПДД № ПЗ/2010 (1)

<p>1</p>	 <p style="text-align: center;"> А Б В </p>	<p>Каким знаком обозначают пешеходную дорожку?</p> <ol style="list-style-type: none"> 1. Только Б. 2. Только Б и В. 3. Все.
<p>2</p>		<p>Нарушают ли правила перехода проезжей части пешеходы?</p> <ol style="list-style-type: none"> 1. Нарушают. 2. Действуют правильно, подчиняясь сигналам регулировщика.
<p>3</p>	 <p style="text-align: center;"> А Б </p>	<p>Эти знаки установлены на перекрестке, где отсутствуют светофоры. Какой участок дороги на перекрёстке пешеходу сложнее перейти?</p> <ol style="list-style-type: none"> 1. Участок дороги, обозначенный знаком А. 2. Участок дороги, обозначенный знаком Б. 3. Оба участка дороги, т.к. перекресток нерегулируемый и нужно принять особые меры безопасности.
<p>4</p>		<p>Сколько проезжих частей имеет данная дорога?</p> <ol style="list-style-type: none"> 1. Одну. 2. Две. 3. Четыре.
<p>5</p>	 <p style="text-align: center;"> А Б В </p>	<p>Какие знаки не дают право пешеходу переходить дорогу в том месте, где они установлены?</p> <ol style="list-style-type: none"> 1. А и Б. 2. В и Б. 3. А и В.

6	 <p style="text-align: center;">A Б В</p>	<p>К какой группе относятся данные знаки?</p> <ol style="list-style-type: none"> 1. «Запрещающие». 2. «Предупреждающие». 3. «Предписывающие».
7	 <p style="text-align: center;">A Б</p>	<p>Какой знак устанавливается перед железнодорожным переездом со шлагбаумом?</p> <ol style="list-style-type: none"> 1. Оба знака. 2. Только знак А. 3. Знак Б.
8		<p>Такие светофоры устанавливаются перед железнодорожным переездом. При каких сигналах светофора пешеходу запрещено движение через железнодорожные пути?</p> <ol style="list-style-type: none"> 1. При бело-лунном сигнале. 2. При красном сигнале. 3. При красном мигающем сигнале светофора.
9	 <p style="text-align: center;">A Б В</p>	<p>Какой знак запрещает движение велосипедистов по тому участку дороги, где он установлен?</p> <ol style="list-style-type: none"> 1. В. 2. Б. 3. А и В.
10		<p>На перекрестке отсутствуют знак «Пешеходный переход» и дорожная разметка «Зебра». Как пешеходу перейти дорогу?</p> <ol style="list-style-type: none"> 1. Перейти дорогу на границе перекрестка. 2. Перейти через дорогу на уровне границы перекрестка, приняв меры безопасности.

ДИАГНОСТИЧЕСКИЙ МАТЕРИАЛ ПО ПДД № ПЗ/2010 (2)

11		<p>Что запрещено пешеходу в зоне действия этих знаков?</p> <ol style="list-style-type: none"> 1. Ничего не запрещается. 2. Запрещается играть на проезжей части дороги. 3. Запрещено движение пешеходов по проезжей части при наличии тротуара. 4. п.2 и п.3.
12		<p>Правильно ли поступают пешеходы, движущиеся по направлению остановившегося трамвая?</p> <ol style="list-style-type: none"> 1. Нет, они должны были ожидать трамвай около трамвайных путей. 2. Да, при отсутствии оборудованной остановки около путей, пешеход ожидает транспорт на тротуаре
13		<p>О чем должен помнить пешеход, который планирует перейти дорогу, обозначенную такими дорожными знаками?</p> <ol style="list-style-type: none"> 1. Что переходит дорогу с односторонним движением. 2. Транспорт движется на данном участке дороги только в одну сторону, указанную на стрелке. 3. п.1 и п.2.
14	 <p style="text-align: center;"> А Б В </p>	<p>Какой знак разрешает движение пешеходов по всей ширине дороги в субботний, воскресный и праздничный день?</p> <ol style="list-style-type: none"> 1. Знак А. 2. Знак Б и В. 3. Все знаки.
15		<p>О чем информируют пешехода данные дорожные знаки, установленные вблизи пешеходного перехода на тротуаре или во дворе?</p> <ol style="list-style-type: none"> 1. Будь внимательным, идут дорожные работы. 2. Движение пешеходов запрещено, опасно для жизни. 3. Оба варианта.

<p>16</p>	 <p>A Б В</p>	<p>На каком рисунке изображен знак, обозначающий пешеходный переход?</p> <ol style="list-style-type: none"> 1. Знак А. 2. Знак Б. 3. Знак В. 4. Все.
<p>17</p>		<p>Разрешает ли данный знак движение пешеходов на том участке дороги, где он установлен?</p> <ol style="list-style-type: none"> 1. При наличии рядом тротуара, запрещает. 2. Разрешает только для посадки и высадки из личного и общественного транспорта. 3. Разрешает, но требует особого внимания. 4. Все вышеперечисленное.
<p>18</p>	 <p>A Б В</p>	<p>Какой знак запрещает дальнейшее движение всех транспортных средств и пешеходов?</p> <ol style="list-style-type: none"> 1. Знак А. 2. Знак Б. 3. Знак В.
<p>19</p>	 <p>A Б В</p>	<p>На каком рисунке изображен пешеходный светофор?</p> <ol style="list-style-type: none"> 1. На рис. А. 2. На рис. Б и В. 3. На рис. В.
<p>20</p>	 <p>A Б В</p>	<p>Какой знак предупреждает пешехода о приближении к пересечению с велосипедной дорожкой?</p> <ol style="list-style-type: none"> 1. А и В. 2. Б. 3. А.

КЛЮЧ

Вопрос	1	2	3	4	5	6	7	8	9	10	11	12	13	14	15	16	17	18	19	20
Ответ	1	2	3	2	3	2	2	3	3	2	4	2	3	1	3	4	4	1	3	3